

第八章

古代的中國

在您閱讀本章前：請先做些預測

以下的重點是個普通的歷史觀點，這個重點將會套用在本章所敘述的地區上。請寫出三個與這個重點有關，並能在您閱讀本章時可以找到答案的問題。例如：

中國奉行那些宗教？

在您閱讀本章時，請注意找尋這個問題的答案。

古代中國的重點

思想學派 許多宗教和思想的學派都是起源於社會導師或先知的觀念。

中國創立的三個主要思想學派是法家、儒家和道家。它們形成於社會動盪紛亂的時期。各個學派都試圖著找出給世界帶來和平與融洽方法。



塔克拉瑪干沙漠
Taklimakan
Desert

喜馬拉亞山脈
HIMALAYAS



Integrated Technology

eEdition

- Interactive Maps
- Interactive Visuals
- Starting with a Story



Ancient China

INTERNET RESOURCES

- Go to ClassZone.com for
- WebQuest
 - Homework Helper
 - Research Links
 - Internet Activities
 - Quizzes
 - Maps
 - Test Practice
 - Current Events

中國

世界

西元前1766年
建立商朝
(玉鹿墜飾) >

西元前1027年
建立周朝

西元前1800年

西元前1500年

西元前1200年

西元前1792年
漢漠拉比建立王朝

西元前1200年
墨西哥的奧爾達克文化開始
(奧爾達克人與幼美洲豹) >



古代的中國，西元前1523-221年

INTERACTIVE

商朝 西元前1300年
周朝 西元前1600年
今日中國



0 200 400 miles
0 200 400 kilometers

G O B I D E S E R T
戈壁沙漠

黃河
(Yellow River)

North China Plain
華北平原

安陽
Anyang

Yellow Sea
黃海

Ch'ang-an (Xi'an)
長安(西安)

Luoyang
洛陽

Zhengzhou
鄭州

East China Sea
東海

Chang Jiang
(Yangtze River)
長江

Xi Jiang
西江

Tropic of Cancer
北迴歸線

PACIFIC OCEAN
太平洋

South China Sea
南海

Bay of Bengal
孟加拉灣



西元前551年
孔子誕生
< (孔子肖像)

西元前403年
戰國時代開始

西元前202年
劉邦成為漢朝
的開國皇帝

西元前600年

西元前300年

西元0年

西元600年


西元前751年
庫施皮安喜
征服埃及

西元前509年
建立羅馬共和國
(羅馬競技場的遺跡) >



司法部長 來到鎮上

背景：大約在公元前 500 年，魯國聘用孔子為司法部長。由於孔子的教化，犯罪的情形幾乎在魯國消失了。以下的故事敘述孔子正在一個村莊訪視，當地的村民對這位新任的司法部長感到十分好奇。這個故事說明孔子的教導方式以及他與村民互動的情形。請想像，你正與其他村民一起站在歡迎孔子的行列中。



孔子的木雕像 ▶





我們看到他的牛車來到村落，他就是孔子，當今最偉大的導師。我們很興奮地等待著他的到來，他是我們新的司法部長。傳說在他所擔任主要官員的地方，犯罪的情形幾乎都消失了，這真是令人難以置信的事。

孔子向大家打招呼，他說：「我很高興看到大家都來了，我們需要改變生活的方式，大家才能和平共處，我已經研究好要如何使這樣的改變情形發生。」孔子接著說：「我們需要改變我們的生活方式，才能和別人和平相處。」

他說：「我們必須以禮對待我們的家人，鄰居，和統治者。」他繼續說：「在家庭裡，我們必須尊重我們的父母及祖先，我們必須以義行事，選擇做符合義理的事，而不是以什麼會帶給我們利益來做選擇的標準。我們每一個人都有一個社會位置，每個人都有個人應盡的義務與責任。」。

我問孔子：「這樣的規範是不是也可以應用在官員身上？官員們常常欺騙人民，並且常目中無人，好像他們就是神一樣。」孔子很快地回答：「是的，這些的規範也適用於在高層官員，他們更應該以身做則，立下好的示範，我們以服從他們的領導來回報。」

我問：「老師，是不是只要做這些你所說到的方法，犯罪的情形就會消失了。」孔子說：「這些方法聽起來好像很簡單，卻是十分有效的。」他繼續說：「無論如何，我們每一個人都要尊重別人。」

他站起來準備離開，做為一個聽眾的我，決定要試試孔子的方法，有沒有人想和我一起試試看呢？

您認孔子的觀念對這個村落有什麼影響？

閱讀與寫作

1. 閱讀：人物與劇情

孔子認為人們要有怎樣的特質才能建立一個和諧的社會？您認為村民會接受孔子的觀念嗎？

2. 寫作：說明與宣導

寫一封信給村民，解釋為什麼孔子的觀念會為村落帶來更和諧的生活。

【加州標準】

寫作2.5 寫作一篇宣導性質的文章。

第

課

重點提要

- 1 **地理** 自然的地理屏障將孕育中華文化的河谷與亞洲其他的地區隔絕開來。
- 2 **政府** 起源於黃河流域附近的商朝是中國最早文明的統治者。
- 3 **政府** 周朝宣稱是得到了上天的許可征服商朝，並統治天下。

加註筆記

閱讀技巧：解釋地理的形式

學習地形的特徵會幫助您瞭解歷史變遷的結果。當您閱讀本文時，請對中國自然的地理屏障與農耕地區加註筆記。將資訊記錄在以華北平原為中心圓圈的下圖內。



S Skillbuilder Handbook, page R16



商代的青銅酒爵

商代以青銅工藝著名

【加州標準】

6.6 請學生們分析早期中華文明的地理、政治、經濟、宗教和社會結構。

6.5.1 找出並且說明商代中華文明在黃河流域的發源地。

6.6.2 解釋為什麼中國的地理特色會將中華文明與世界其他的地方隔絕開來，造成管理和傳播思想與物資的困難。

地理環境 對古代中國生活的 影響

從您知道的開始著手 是什麼因素讓您所居住的地區成為適合人類居住的地區？想想看您地區的地理特點對生活有什麼影響？

古代中國的地理環境特色

主要提問：自然地理環境對中國早期的發展有何影響？


在中國，你將看到類似美索不達米亞平原，埃及，古印度文明類似的河流發展模式。中國兩大河流所帶來的水和泥沙，讓農業耕作可以發展，城市沿著河岸建立起來，這是中國古代文明的起源。

中國座落在亞洲大陸的東方，與赤道的距離和美國差不多是一樣的。古代中國領土的東邊有黃海、東海、太平洋，領土的西邊、北邊有沙漠，最北是戈壁沙漠，西邊除了有塔克拉瑪干沙漠，還有帕米爾高原、天山、喜馬拉雅山，形成一緊密的曲線屏障。

中國文明受限於自然地理環境的影響，是個別孤立的，不像尼羅河和新月沃土地區，人類的文明彼此緊密互動。高大的山脈，廣闊的沙漠，和大片的水域，使得觀念和貨物的傳送十分困難。因此，中國古代的文明也就在這樣的自然條件下，有著很不一樣的發展。

戈壁沙漠

戈壁沙漠大於德州與加州的面積總和，是世界上最大的沙漠之一。



兩條不同的河流系統

中國兩條最主要流入太平洋的大河，一條是流經中部的長江，另一條是流經北方的黃河。兩條河流所挾帶的黃泥沙，為兩河流域帶來了肥沃的土壤，古代中國的農業便是在這裡發展起來。古代中國的文明，也就是在這個被稱為『華北平原』的黃河流域發展起來的，這裡一直是中國文明的中心。



不同的氣候

就像美國一樣，中國有著不同的氣候。就像美國西部一樣，中國的西部非常乾燥。就像美國北部一樣，中國的北部四季分明。不同的氣候，有利於不同農作物的種植。稻米種植在潮濕的南方，小麥和粟米則種植在較乾燥的北方。（請參閱283頁的插圖）

長江（揚子江）

它是亞洲最長的河流。直到現在，它還是中國主要的水運航線。長江也會和黃河一樣的有黃沙沉積物。

複習問題 為什麼華北平原是中華文明的中心？

商朝

2 主要提問 中國的語言文字是如何發展出來的？

西元前2000年，黃河的農業聚落逐漸發展成為城市，中國文化從黃河流域開始發展起來。現代的中國文化可以追溯到西元前2000年的黃河流域，因此中國文明可以說是世界上最長久的歷史文明。

商王

大約在西元前1766年，商王開始控制一些城市，他們設立了朝代，由商王的子孫世代統治。商王負責宗教活動，並宣稱他的權力是上天所賦與。商王本身控制華北平原的中心地區，而他的親戚、家族則控制了周邊區域。商王運用戰車，成功地防衛，並打敗北邊和西邊的遊牧民族。商朝與遊牧民族間的戰爭不斷。

商的家族

在商的文化裡，尊敬父母與祖先是非常重要的，家庭與宗教的關係密切。中國人相信，祖先的靈魂可以為後代子孫帶來好運。家庭每年會以動物牲禮來祭祀父親家族內的祖先，男性掌控家庭的一切。

語言的發展

商王宣稱，他可以召請天神來幫助人民。商王透過甲骨文來與上天進行溝通。商王的祭師在動物的骨頭或烏龜殼上，刮出商王對上天所提問的問題，然後再用燒紅的棒子碰觸動物的骨頭或烏龜殼，使它們產生裂痕，祭師詮釋這些裂痕，並將答案刮在骨頭上，這些刮痕被認為是最早的文字形式。

就像其他的古代文明，商朝是從象形文字開始發展文字系統。運用簡單的素描或字形，代表文字或概念。從右下表，你可以看到這些早期的象形文字和現代的中國文字十分相似。相較於英文只有26個字母，中文運用了大量的符號，一個人須要知道至少1500個中國字才能進行簡單的中文讀寫。

中國的文字不是拼音文字，所以你可以看得懂文字的意思，但不一定會發音，就好比一個不會說英文的人仍然可以看得懂 $2+2=4$ 。

視覺詞彙

甲骨文遺骨



這根肩胛骨上刻記著甲骨文的題詞

複習問題 商代文字是如何產生的？

周朝

3 主要提問 周是如何征服商的領土？

周從西北邊遷移下來，和商有多次的爭戰。大約在西元前1027年，周武王帶領軍隊打敗商。

中國文字

古代	現代
田	
水	
牛	



周和周朝

中國朝代的興衰是有模式可尋的，歷史學家稱之為朝代循環(Dynasty Cycle)。

就像古埃及一樣，中國人相信如果統治者失去了上天的應允，災禍就會發生。因此，統治者得到上天應允的概念，變成了傳統的中國文化概念，這種概念稱之為『天命』。當統治者昏庸無能時災禍就會發生，例如農民暴動、叛亂、水災、或地震，都代表著天命已經消失，也代表著更換統治者的時間到了。

周朝承繼了許多商朝的文化，這就是中國文化傳承和發展的模式，一直持續到今日。

周朝政府

就像商朝一樣，周朝並沒有一個中央集權的政府。周王任用家族成員稱為諸侯，或其他值得信任的人負責管理各地方。周王分配大片的土地給他們，他們就像那個地區的王一樣，地方諸侯必須向周王貢獻忠誠與軍隊，周王則必須保護他們的領土。當聚落逐漸發展成城市，諸侯向外擴張領土時，他們的勢力就增強。於是更多的聚落歸諸侯管轄，地方諸侯也不再仰賴周王，地方諸侯彼此間也會有紛爭，諸侯所新取得的領土進一步擴大了中國的版圖。

春秋戰國時期

領土的擴展，是中國歷史裡很常出現的主軸。從公元前 800 年開始，游牧民族經常從北方和西方入侵中國。在公元前 770 年，游牧民族入侵中國，摧毀了當時的首都並殺死周幽王，王室家族逃離到洛陽，重新建立新首都。從公元前 403 年開始，中國便進入了戰國時期。

複習問題 「天命」這種觀念如何幫助周朝取代商朝？

課文總結

- 河川流域的資源促使中華文明的發展，一些地理特色也造成中華文明與外世的隔絕。
- 商朝創造了包含文字系統的文化。
- 周朝用天命的觀念取得統治權。

對現代的影響...

商代與周代發展出來的中華文化仍然影響中國人今日的生活方式。



玉龍飾物

龍是權力與至高無上的象徵

1

課文回顧

名稱辭彙

1. 解釋下列的重要性
甲古文 朝代循環
象形文字 天命

用您的加註筆記

解釋地理形式 用您完成的圖形回答下列問題：

2. 自然的地理屏障如何影響商代和周代與外界的關係。



重點大綱

3. 為什麼商朝奠基於黃河流域？
4. 商代的中國文字是如何發展出來的？
5. 中國百姓如何知道統治者已失去上天的眷顧？

判斷思考

6. 瞭解肇因與影響「天命」這種觀念如何促使了商朝與周朝的政權交替？
7. 比較異同 在黃河奠基的文化與在世界其他地區的文化有何相似之處？

 Homework Helper
ClassZone.com

教學活動

創造語言的元素 發明一些象形文字。在課堂上用它們來造句，並且讓其他同學瞭解您所寫的句子。

第一課

重點提要

- 1 **思想學說** 法家認為政府一定要透過嚴厲的法律掌控人民。
- 2 **思想學說** 孔子認為社會若能依照五倫的規範，中國便能重新恢復秩序。
- 3 **思想學說** 道家的信徒認為若能與大自然和諧相處便能找到應因循的真理。

加註筆記

閱讀技巧：比較

透過比較可以幫助您瞭解事物之間的異同。請找出本課關於中國三大哲學思想的敘述，將三大哲學的思想的重點填在以下的表格中。

法家	儒家	道家

S Skillbuilder Handbook, page R4

【加州標準】

- 6.6.3 瞭解孔子的一生及儒家和道家的基本學說。
- 6.6.4 指出孔子時代政治與文化的通弊，以及他如何尋求解決之道。
- 6.6 請學生們分析早期中華文明的地理、政治、經濟、宗教和社會結構。

道

文字符號：道

這個字叫做「道」，意思是「方向」或「途徑」。它是由兩個字所組成，紅色的部份是指「走」，綠色的部份是指「頭」，起來的意思就是「走向理解之路」。

古代中國的哲學

從您知道的開始著手

你已經知道有關戰國時期的歷史，在戰國時期中國社會是十分混亂的。為了爭奪領土，諸侯與諸侯，諸侯與君王之間戰爭不斷，學者紛紛研究該如何取得和平。大致上來說，有三大思想家的說法：法家、儒家、道家。每一個思想體系，都有自己中心哲學理念，或一套基本思想概念，和關於宇宙的看法。

法家

1 基本提問 法家建議社會應該如何取得秩序？

法家相信，統治者應該用法律來強迫人民守法。法家認為社會不能失去秩序，主張要有一個強而有力的政府才能解決中國社會的問題。

峻法嚴罰

法家認為人性本惡，所以法家主張，政府應該透過嚴格的法律來管理人民的行為。法家認為，嚴厲的懲罰才能讓人民不敢做壞事。

孔子授業圖

孔子（左邊第二人）與弟子們相談。



增強政府的控制

商鞅是法家的支持者，他要求人民要通報犯法的人。他認為不通報犯法的人是要被砍成兩段的。法家認為統治者應該獎勵服從法規的人。法家不希望人民抱怨政府，或質疑政府的所作所為。法家認為應該將質疑政府，或有不同意見的人抓起來。法家也認為含有不同哲學，或思想主張的書籍，應該予以燒毀。

複習問題 為什麼法家主張要有一個強而有力的政府？

儒家

2 基本提問 儒家的主張如何能夠為中國帶來和平

孔子的出生於公元前 551 年，死於公元前 479 年。當時中國的社會充滿矛盾和不安，他致力於發展一套思想學說來解決衝突與紛爭，希望為中國帶來和平。依據孔子的思想，尊重他人是和平與和諧的必要條件。統治者應以身作則，讓人民知道什麼才是正確的行為。孔子的學生將他的思想記錄下來，並整理成書 --《論語》，這本書講述了孔子的思想系統 -- 也就我們現在所稱的『儒家思想』。

五倫

孔子教導人們應有適當的行為守則。在儒家思想裡，有五種基本人際關係的倫理：父子、夫妻、兄弟、朋友、君臣。五倫將人的行為分成兩大類，一類是在家庭裡，另一類是在社會裡。


與今日的關係

祭典 臺灣的兒童參與祭孔大典。



Primary Source

背景：孔子教人孝道和尊敬父母與祖先。在這摘錄中，他與弟子談論孝道。他關注的是禮儀規範或是對社會的適當性與正確性。



倫語 節錄

子游問孝。
子曰：「今之孝者，是謂能養。至於犬馬，皆能有養。不敬，何以別乎？」

意思是：「現在的人以為能養活父母就是孝順了。其實養狗和養馬不也是養嗎？如果對父母不恭敬，那和養狗或養馬有什麼不同呢？」

孟懿子問孝。孔子回答：「無違」

樊遲問孔子「無違」是什麼意思？
孔子回答說：「生，事之以禮。死，葬之以禮，祭之以禮」

意思是：「對父母親要恭敬有禮。若父母親不幸過世，要恭敬地舉行葬禮，逢年過節，要祭拜父母。」

關於文章的問題

請您依照孔子的學說引述家庭在社會中的地位。

正當行為

孔子相信，正當的行為和尊重是從家庭開始。丈夫要善待妻子，妻子要服從丈夫的決定，兄弟要和睦相處，弟弟應該遵從兄長的意願。孔子最重要的理念之一，便是提倡孝道，教人要尊敬父母。孔子也很關注人在社會裡的正當行為。統治者應該得到尊重。統治者的責任，是要有合乎禮的行為和敬愛人民。如果統治者以合乎禮的方式治理國事，人民就應服從他的領導。如果所有的人都以禮行事，那麼社會就可以得到和平。

儒家的影響

儒家為中國的家庭與社會，定下了清楚的道德規範。遵守這些道德規範，人們可以避免衝突，社會可以得到和諧。很多古代中國的統治者試著遵循儒家的思想，成為優良的統治者。儒家鼓勵興學，孔子教育平民也為統治者訓練出一批有才能的官員。

Primary Source Handbook

See the excerpt from the *Analects of Confucius*, page R42.

複習問題 孔子認為統治者應該有如何的行為？

孔子 (公元前551-479年)

孔子Confucius 一字是從孔子的中文名字翻譯而成，意思是**至聖先師**。孔子19歲時，替一貴族家族擔任管放牧牛羊的工作，之後他從事教育工作，受聘於富人家庭，負責教導他們的子女。他一直很想謀得官職，所以他才能有機會將他的理想用來改變社會。孔子有一個概念，你一定會覺得很熟悉：『已所不欲，勿施於人』。孔子51歲那年，他被任命為魯國的司法部長，他十分成功地讓魯國不再有罪犯，並成為其他國的典範。不幸的是，孔子最後被迫離開他的官職，並且非常失意地離開了魯國。



道家

3 主要提問：道家是如何看待社會？

在本章第三個要介紹的中國哲學思想，是由老子開啟的。老子大約生在公元前500年，老子的名字意思是老師傅，他所講述的書，名為《道德經》，他的學說稱為「道家」，和「法家」、「儒家」有很大的差別。

道

道家相信，天地宇宙有一自然法則，稱之為「道」。除了人以外，天地萬物都與「道」和諧相處。每個人都必須找到與自然和他人相處的方法。如果每個人都能學習順著「道」生活，就能與自然合而為一。與自然合而為一就能清心無慾。

順其自然

道家並沒有談論太多什麼是好，或什麼是壞，也沒有試著要去改變事情。道家接受事物原本的樣貌，也不願意與政府有任何關連。

道家試圖瞭解天地宇宙的道理，希望與自然和諧相處。道家的思想包括，陰和陽，陰代表陰冷和黑暗，陽代表溫暖和明亮，太極圖中白色部分代表陽，黑色部分代表陰，陰陽二股力量總是不斷在改變和演化，二者相反又相成。道家思想幫助人們的生活順應天地宇宙的自然法則。

下一課中，您將會學習到這三種哲學思想如何影響中國的統治者管理國家的方法。



陰陽符號

最外的圓圈代表宇宙萬物，圓圈內的形狀是陰陽力量交互的影響。

複習問題 為什麼道家主張每個人都要能找到各人生命中應該遵循的途徑？

課文總結

- 法家認為人性本惡並主張嚴刑峻法。
- 孔子教人學習適當的德行，包括互相尊重。
- 道家認為每個人都必須找出自己可以遵循的德道之路。

對現代的影響...

儒家學說與道家學說仍然影響著今日的中國與世界。

2

課文回顧

 Homework Helper
ClassZone.com

名稱辭彙

1. 解釋下列的重要性

哲學 儒家 道家
法家 孝道

用您的加註筆記

比較 用您完成的圖形回答以下的問題：

2. 中國的那一個哲學思想注重家庭的重要性？

法家	儒家	道家

重點大綱

3. 法家認為政府要如何才能讓百姓和平相處？
4. 孔子提倡五倫的的目的是什麼？
5. 道家對大自然有什麼信念？

判斷思考

6. 比較同異 法家與儒家對人性的看法有什麼不同？
7. 判斷推理 道家對儒家學說會有何看法？

教學活動

制訂教室規則 從中國的三大哲學思想中選出一個，並依照它的基本理念制訂一套教室規則。與同學討論這一套規則，並決定在班上實施那些規則。

比較和對照

目標：分析比較和對照中國的二個哲學思想的實踐方法

學習方法

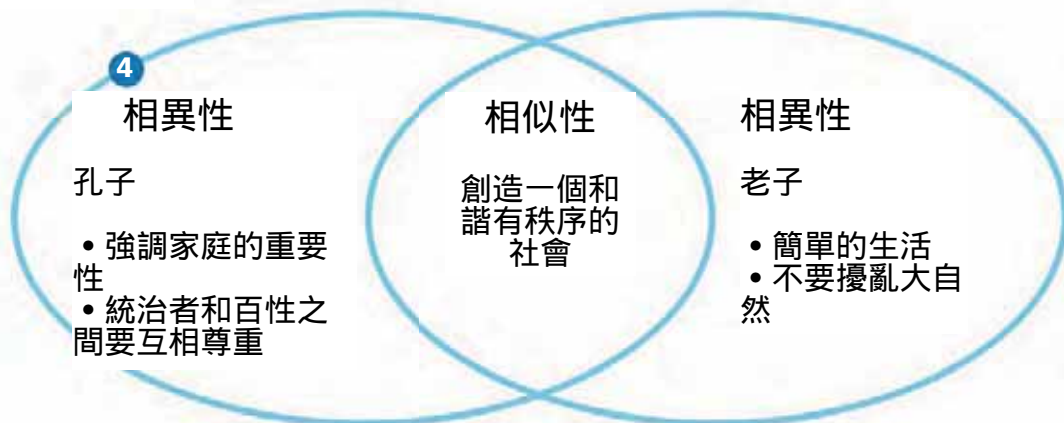
「比較」是指找出兩個或多個事物之間的相似性和相異性，「對照」是指只檢查他們之間的相異性。史學家會透過比較和對照的方法來瞭解各種事件、個性、信仰和情況。

請參照。「學習方法教學手冊」第R4頁。

方法練習

- 1 找出二個可以用來做比較和對照的觀點。右文是一個範例，它比較二種可以促成完美社會的方法。
- 2 找出「相似性」的方法是注意代表二件事相似的線索詞字。這些線索詞字包括「都」，「像」，「也」和「相似」。
- 3 找出「相異性」的方法是尋找代表二件事相異的線索詞字。這些線索詞字包括「相反」，「然而」，「除了」，「但是」和「不同於」。
- 4 用製作下圖的方法來幫助您辨認二件事物之間的「相似性」和「相異性」。在重疊的地區列出兩者皆具備的特質。在不重疊的橢圓形區內列出與對方不同的特質。下圖的例子是比較與對照中國二位哲學家，孔子和老子。

例如：



補充材料

這篇文章將討論二位中國哲學家，孔子和老子的觀念。這篇文章注重在孔子和老子對人類應當如何創造一個完美社會的看法。

二個中國的哲學思想

孔子和老子這兩位中國的哲學家都在找尋〔1〕創造一個完美社會的方法。〔2〕兩位哲學家都希望人類能夠和平相處，並且有一個秩序的社會。

〔3〕然而，孔子的想法與老子的想法有相當的差異。孔子認為家庭是非常重要的。他說家庭的成員應該互相尊敬。在社區和國家之中，統治者應該尊敬人民，人民也應該尊敬統治者。如果大家都能這樣做，將會有個安定詳和的社會。

老子與孔子的學說並不相同。〔3〕不同於孔子，老子認為各種組織和人為的系統都不是導致生活和諧的方法。〔3〕相反地，老子認為大自然已經提供了生活和諧的最佳例子。他教他的門徒經由觀察大自然的方式來瞭解處世的方法。他強調簡單的生活形式和不擾亂大自然的法則。他說人們如果能夠這樣做，將會有個和諧的世界。



孔子

孔子希望靠著人們之間的互相尊敬來恢復中國的秩序與和諧。



老子

老子相信大自然法則的重要性。如果人們能夠依隨大自然，他們將會有美好的生活。

第二課

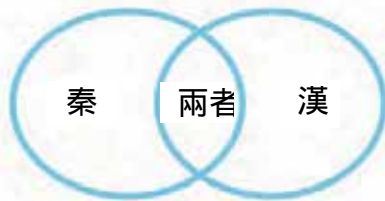
重點提要

- 1 **政府** 秦始皇征服戰國列強，統一天下，建立一個強大的政府。
- 2 **政府** 漢朝取代秦朝，建立了一個延續四百年的強大帝國。
- 3 **文化** 至今仍然可以見到漢朝流傳下來的生活模式。

加註筆記

閱讀方法：比較和對照

「比較」和「對照」是指找出能夠幫助您瞭解歷史發展的相似性和相異性。當您閱讀時，請搜尋表示兩件事在某方面類似的詞字，例如「像」或「相似」。比較和對照秦朝和漢朝的規定，將您的資料記錄在下圖之中。



S Skillbuilder Handbook, page R4



金縷玉壽衣

金縷玉壽衣是用金線將2498張玉片縫合而成。中國人相信玉能夠保留遺體至來世。

【加州標準】

- 6.6.5 列出秦始皇將中國北方納入秦朝統治之下的政策與成就。
- 6.6.6 詳述漢朝的政策對政府官僚制度發展與帝國擴展的供獻。
- 6.6 請學生們分析早期中華文明的地理、政治、經濟、宗教和社會結構。

秦朝和漢朝

從您知道的開始著手 在周朝末期，幾個諸侯國仍然處於戰爭的狀態。如同前幾課所說的，中國人相信「天命」。根據這種說法，戰亂和災難是朝代已失去上天眷顧的跡象。這時便須要一個新的統治者來代替舊的朝代。

秦統一中國

1 主要提問：秦朝如何統一中國？

中國新的統治者來自於秦國。有些學者認為，中國 (china) 的名字起源也許來自秦。新的統治者自封為「始皇帝」，他統一了全中國。

強調法治的統治者

公元前 221 年，「始皇帝」結束戰國時代的紛亂，他征服了其他諸侯國，驅逐侵略的北方遊牧民族，建立了一個比周朝還更大的封建國家。

「始皇帝」主張用法治來管理國家，他試圖掃除儒家的思想，殺死 460 個批評他和尊從儒家思想的人，他下令焚燬所有他不喜歡的書。

兵馬俑

數千個陶土士兵埋葬在秦始皇的陵墓中。



統一中國

「始皇帝」希望建立一個強而有力的中央集權政府，為了增強中央政府的權力，他削弱貴族家庭的權力。他從那些被打敗的貴族手中收回領土，同時強制貴族必須住在首都內，以方便監督，這些措施削弱貴族的勢力，增強皇帝的權力。

「始皇帝」希望統一全中國，他建築道路和灌溉系統，強徵農民來做這些工程，並且對人民課徵很高的稅金來支付工程費用。他統一了中國境內的度量衡，錢幣，和文字。這些措施使中國境內各地更容易互相進行交換和貿易。

長城

「始皇帝」計劃沿著中國北方邊界修築一道長牆，用來防衛北方游牧民族的侵襲。他強徵成千上萬的農民和罪犯從事修建工作，很多人因過度工作而死亡，這些死亡事件在民間引起很大的怨恨。「始皇帝」把戰國時代建築的一些長牆，一段段地連接起來叫做長城。最早的牆是用泥土蓋起來的，晚期的牆使用了石頭和磚塊。現在的長城已經是經過了多次的修建和延長。

秦朝結束

「始皇帝」在公元前 210 年去世。他的陵墓雄偉壯觀，其中還有一支陶土燒製的軍隊與他一同被埋葬，在 1974 年，考古學家首次發現這批兵馬俑。請參閱 272 頁至 276 頁的相關文章

萬里長城

假日時，數以千計的遊客造訪長城。

複習問題 為什麼秦始皇要殺害許多儒生？





漢朝

2 主要提問：漢朝如何統治中國？

「始皇帝」的兒子不像他的父親，他並不是個強勢統治者。在他的執政時期，很多人起來反抗。他退位之前的那一年，發生了農民叛亂，最後一個名叫劉邦的軍隊領袖，打敗秦王。劉邦結束農民叛亂，並重新統一中國，在公元前 202 年建立漢朝。同一時期的歐洲地區，正處於羅馬帝國時期。

漢朝的政府 劉邦繼續保留秦朝中央集權的政府，但減輕農民的賦稅，他採取比較不激烈的處罰措施。漢朝時，農民每年須在政府的公共工程上貢獻一個月的勞動力，劉邦運用這些勞動力修築道路，運河，和灌溉系統。

漢朝雖然也是諸侯制，但是和周朝不同。漢朝的諸侯在政治、軍事和經濟等方面沒有周朝的諸侯獨立。漢朝建立了一套官僚體系，政府官員是由皇帝來選取任用，他們到各地方政府任職，執行皇帝的旨意。漢朝有一套考試制度，用來找出最優秀和最有操守的人，讓他們出來擔任政府的官員。這種考試制度是以儒家思想為主要的內容。

漢朝的拓展

劉邦在公元前 195 年去世，他的遺孀 -- 呂后代理兒子治理國家。

呂后去世之後，由劉邦的另一個兒子繼任為皇帝，是為漢文帝，漢文帝死後將皇位傳給兒子景帝，他們把國家治理的很好，稱為《文景之治》。景帝的兒子是漢武帝，他透過戰爭擴大了中國的領土。漢武帝有許多光榮的戰績，中國的南方省分，越南的北邊，朝鮮的北方都為他所征服。當時中國領土的範圍已經與現在一樣大。雖然經歷了諸侯叛亂、農民起義、洪水、飢荒、經濟恐慌，漢朝仍然一直延續到公元 220 年才結束。

複習問題 漢代的統治者如何徵召百姓為政府工作？

漢朝時的中國生活

3 主要提問：在漢朝，中國的日常生活是怎麼樣的情形？

很多現代的中國人自稱為漢族，他們有著很強烈的祖先歷史認同。漢族是勤勞的民族，擁有繁榮的文明。

漢朝的日常生活

農村生活

在漢朝社會，大部份的人務農為生。農民住在靠近農田的村落裡，大部份的屋舍是一層或兩層高的土屋或磚屋，穀倉、豬圈和倉儲也在同一地方。富裕人家才能養得起一兩頭牛來拉犁，窮人家就得靠人力拉犁。富裕人家和貧窮人家，都擁有簡單的農具來幫助耕種。中國農民穿著和現代衣服很類似，有簡單衣服和鞋子。天氣寒冷時，他們穿棉袍保暖。北方的農民種麥和粟，南方的農民種稻米，農民種蔬菜來補充食物的來源。日常食物裡也有魚和肉，但比較昂貴，所以一般人比較少吃魚肉。

漢代的仕女

這些中國宮廷仕女穿著精緻的服裝和髮型



城市生活

在漢朝也有城市，並不是每個人都住在農村。城市是商業交易，教育和政府行政的中心。商人、工匠、官員都住在城市裡。宮殿和貴族及富人的住宅精緻華麗。城市是擁擠的，充滿各式各樣的娛樂、樂師、變戲法或耍雜技的人，從某個角度來看，漢朝的城市和現代的城市差異不大。

複習問題 農民與城市居民的生活有什麼不同？

課文總結

- 在公元前 221 年，秦始皇統一中國，並且靠著嚴刑峻法來統治國家。
- 漢朝成功地統治了大片的領土。
- 漢代的生活方式仍然可見於今日中國人的生活之中。

對現代的影響...

強而有力的政府對現代中國人的生活仍然很重要。

馬踏飛燕

這個是被公認為漢代最好的藝術品之一的青銅馬塑像。



3

課文回顧

名稱辭彙

1. 解釋下列的重要性
秦 漢朝
始皇帝 官僚制度

用您的加註筆記

比較和對照 用您完成的圖形回答以下的問題：

2. 秦朝與漢朝有那些相似之處？



重點大綱

3. 秦始皇採用那一種的統治方式？這方式對他的統治權有何影響？
4. 為什麼漢武帝對漢朝的成就很重要？
5. 現代中國人的生活方式與漢代有何相似之處？

判斷思考

6. **判斷推理** 秦始皇統一天下有什麼重要性？
7. **比較同異** 秦始皇統一天下的方法與波斯帝國的統治者有何相似之處？

 Homework Helper
ClassZone.com

教學活動

製作地圖 拿出您製作的世界地圖。繪出漢代的疆域及長城，用適當的符號代表長城。

秦始皇寧靜的軍隊

from THE
EMPEROR'S
SILENT ARMY

BY JANE O'CONNOR

背景：

在1974年，三位中國農夫掘井時觸及了一個堅硬的物體。當他們繼續挖掘後，一個穿戴著古代戰服的陶土泥人逐漸從地裡出現。這些農夫因此發現了7,500個裝備著武器和馬曳戰車的兵馬俑大軍。這批軍隊被埋在一個中國最偉大的皇帝——秦始皇，的陵墓中。

被埋葬的士兵

由於在戰場上的勝利，秦始皇成為了皇帝。他的軍隊號稱百萬大軍。除了數字以外，從各方面來看，兵馬俑都呈現了秦始皇大軍的真正軍容。

目前為止，已經在三個相鄰但是不同的墓坑中找到了兵馬俑，而第四個墓坑則是空的。整個軍隊面朝東方。秦始皇的故鄉——秦國在西北方，其他被征服併吞的諸國位於東方。所以秦始皇擔心將來東方會出現揭竿起義的敵人。

第一個墓坑（一號墓坑）是目前最大的，它的長度超過二個美式足球場，一共安置了大約六千個的兵馬俑將士和戰馬，其中大約一千個兵馬俑已經被掘出並修補復原。這些士兵都沒有穿戴頭盔，也沒有攜帶護盾，以表示秦軍的勇敢。但是，位於前排的弓箭手也沒有穿著護甲，因為他們需要能夠自由地活動，以便準確地發射。所以這些前排的弓箭手不但最缺少掩護，他們也將會是來敵的第一個目標。

先鋒之後是主力部隊，由十一列攜帶著矛、鉞（戰斧）和戟的步兵與低階軍官所組成。士兵們已經準備好迎戰來自各方的攻擊；最左列和最右列的士兵面不朝前，而是朝外，所以他們能夠阻擋左右任何一邊的來敵。最後是後衛，由三列背向其餘部隊的士兵構成，以便阻擋來自後方的攻擊。

約五十位穿著長護甲駕駛著木製馬車的騎兵分置於步兵之中。每位騎兵駕馭四匹馬隊。有些將軍與騎兵共乘於馬車上，準備擊鼓傳訊發動進攻或是下令撤退。



1. 先鋒：在軍隊行動時位於前方的隊伍。
2. 戟：一個結合矛和鉞（戰斧）的長兵器。

二號墓坑遠比一號墓坑小，估計它約含有900名各階級的戰士。二號墓坑是用來擔任一號墓坑主力軍隊的後備部隊。墓坑中還有約500匹的戰車馬和超過100匹的騎兵馬。

兵馬俑的馬是體型不太大的蒙古小馬，但是牠們的肌肉發達而且強而有力。顫動的鼻孔、露出的牙齒和凸起的眼睛，這些戰馬的神色，就好像是牠們已經迫不及待的要疾馳戰場。每匹戰車馬的鬃毛已被剪短，尾巴也結辮。如此，才不會被韉具纏住……

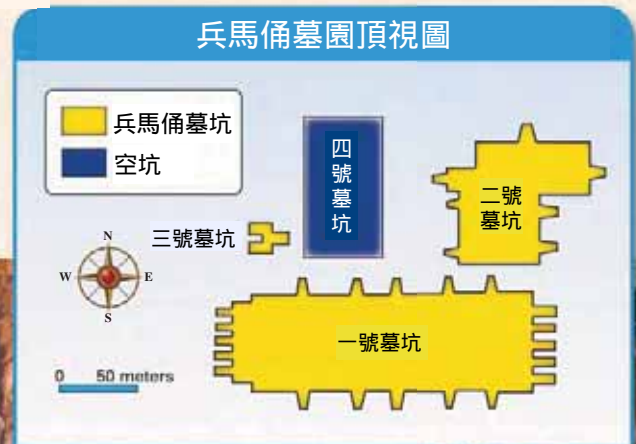
最小的是三號墓坑，只有少於七十名的戰士和一個馬隊。考古學家認為三號墓坑代表著軍隊的指揮部，因為戰士們沒有排成攻擊隊形。

三個墓坑所有的戰士和馬隊組成了一支無法抵擋的軍隊……

複習問題 各墓坑的兵馬俑代表了軍隊那一種的編組？

3. 蒙古的：來自蒙古地區的。

二號墓坑的士兵：
他們是一號墓坑的後備部隊。





現在大約已掘出二千個兵馬俑，令人驚訝的是，沒有兩個是相同的。軍隊的成員包括不同的年齡，來自中國不同的地區，具備不同的氣質。一位年輕的士兵看起來既興奮又緊張；一名比較老的軍官，或許經歷了許多場的戰役，看起來既疲乏且一副聽天由命的樣子；有些士兵看起來心不在焉，可能是在夢想著解甲還鄉；還有一些看起來既驕傲又有自信。雖然從遠處來看所有的兵馬俑幾乎相同，像是巨型的玩具兵，但是每一個兵馬俑都是一件獨特的藝術品...

蒙古馬

在陵墓中發現了超過500匹的馬。有些是騎兵馬，另外一些是戰車馬。

兵馬俑人物的服裝都是確實仿照當時士兵的真正穿著。從服裝上可以判斷他們在軍隊中階級的高低。最低階的士兵沒有戴帽子，穿著沒有護甲的厚重戰袍。他們的小腿通常用布裹緊，以保護足脛。

將軍的制服最漂亮，他們的帽子上有時裝飾著羽毛，他們花梢的鞋子在趾端往上捲曲，他們精緻的胄甲是由小魚鱗鐵片製成，胄甲上的墜纓也是他們階級較高的代表。

複習問題 您會怎麼描述士兵的制服？

4. 聽天由命：因哀傷或不幸而放棄。
5. 戰袍：打仗時穿著寬鬆過膝的袍子。

閱讀與寫作

1. **閱讀：找出重點** 從文本、圖片和圖形中，您學到那些關於兵馬俑的知識？
2. **寫作：寫應用文** 寫一篇請求支持陵墓考古工作的募款講稿，並在班上對您的同學發表。

第四課

重點提要

- 1 **地理** 絲路為中國帶來了文化和經濟的改變
- 2 **思想學說** 儒家和道家這些中國的哲學思想對東亞地區有長久的影響
- 3 **科學與技術** 中國漢代在科技、農業和貿易上有很大的進步。

加註筆記

閱讀技巧：分類法

把資料分類能幫助您瞭解歷史上的重要發展。蒐尋關於古代中國遺產的類別和細節，再將資料記錄在下面的網圖中。



S Skillbuilder Handbook, page R6



絲繡壁毯

這幅中國壁毯上繡的是佛祖在靈鷲山的傳道圖。

【加州標準】

- 6.6 請學生們分析早期中華文明的地理、政治、經濟、宗教和社會結構。
- 6.6.3 瞭解孔子的一生及儒家和道家的基本學說。
- 6.6.7 列舉在漢代和羅馬帝國時橫跨歐亞大陸「絲路」的重要性和它們的位置。
- 6.6.8 描述漢朝時佛教如何北進傳入中國。

古代中國的遺產

從您知道的開始著手 貿易構成中國人生活的一部分。雖然中國與西方被自然的地理屏障分隔開，貿易增進了中國與其他地區的接觸。

絲路

1 主要提問：在絲路上運送的貨物有那些種類？

在漢朝的時候，全世界只有中國人知道如何造絲。絲是當時許多人（包含中國地區與非中國地區）所喜愛的高級紡織品。在中國開啟與西方的貿易路線裡，絲扮演了重要角色。

橫跨歐亞的連結

橫跨歐亞大陸的貿易路線名為「絲路」，因為商人帶著絲綢及其他貨品所組成的商隊在這條道路往返歐亞。這條往西方的通路，從中國出發，經過中亞、美索不達米亞最後到達歐洲。由於它橫跨兩個大陸（歐洲和亞洲），被稱為 trans-Eurasian，中國也因此成為世界貿易網的一部份。

在公元100年左右，絲路已經大致成形。從中國運出包括絲、紙、陶器等貨物，以之和西方交換貨物，如芝麻、油、金屬、寶石等。其中有一項交換貨物是中國極為喜愛的，就是來自中亞的馬匹。

文化傳播

透過絲路運送和交換的不只是貨物，還有思想和習俗。這種思想和習俗的擴散，我們稱之為「文化傳播」。例如中亞的軍隊方法，佛教思想，西方的文化方式，都是經由此種方法抵達中國。同樣的，中國的藝術、絲綢、陶器也經由此通道影響了西方文化。

與今日的關係

絲綢

現代的絲綢商販在古老絲路途中的喀什市場上販賣他的商品。





絲路 , 150 B.C.–A.D. 500

在阿富汗巴米揚附近的絲路支線

地理練習

解釋地理

變動 請解釋絲路的主幹在敦煌與喀什之間分為兩路的原因。

佛教的傳播

在漢朝，佛教的信徒通過絲路來到中國。之後，佛教又經由中國進一步傳播到日本和韓國。佛教到中國做了適度的調整，使它能更符合中國的文化傳統。

複習問題 為什麼絲路對中華文明很重要？

重要的思想和信仰

2 主要提問： 儒家與道家思想有什麼重要性？

儒家思想

儒家思想在中國的行政與教育系統裡，一直扮演很重要的角色。即使到今日，在中國日常生活裡，孔子關於社會責任的主張，仍然有很大的影響。儒家思想也被傳播到日本，韓國和越南。

道家

道家思想也對中國有長遠的影響，到公元六世紀時，道家已經是一個有祭師，儀式，和專門著作的信仰。不像儒家被進一步傳播到其它國家，道家則一直停留在中國境內。

複習問題 儒家今日在何處實踐？



中國的發明和發現

3 主要提問：中國人的日常生活 在漢朝有何重大的轉變？

中國有著龐大的人口，且一直持續成長。由於農業對中國的重要性，很多發明也都是與農業相關。

農業的進步

中國的農具發明使農業耕作變得更簡易，並且能生產更多的穀物去進行商業交易，例如設計良好的犁和農耕器具可以增加農作物的產量、馬環帶可以讓馬匹拉更沉重的貨物、手推車的發明也讓農夫可以推動重物、水車運用河流的水力來磨麥，這些農業新發明在以農立國的中國有很高價值。

紙

在公元 105 年，中國發明了紙張。在此之前，所有的書本都是以絲或是竹簡等製成的。而這些造價便宜的紙張，是用舊破布、桑樹皮、大麻纖維混製而成，造價便宜的紙張讓書本可以在重視學習的中國變得普及，也讓政府單位能夠將許多記錄保存下來。

絲

絲美麗且耐用，絲可以被染出各種明亮的顏色，絲是最佳的貿易商品。中國用絲綢來與西方交換金、銀。在當時，一磅重的絲綢等同於一磅重的金子。金和銀的輸入，對沒有太多金礦或銀礦的中國而言是十分重要的。

複習問題 中國古代為什麼須要改進農業技術？

課文總結

- 商品和思想經由被稱為「絲路」的貿易路線帶入及帶出中國。
- 儒家和道家對中國有長久的影響。
- 中國在農業，造紙和其他方面的發明改善了日常的生活。

對現代的影響...

古老文化的模式持續地影響著中國和其他地區的生活方式。

4

課文回顧

 **Homework Helper**
ClassZone.com

名稱辭彙

1. 解釋下列的重要性
絲路
橫跨歐亞大陸
文化傳播

用您的加註筆記

- 分類** 使用您完成的圖表回答以下的問題：
2. 中國將那些思想或商品帶給古代的世界？ (6.6)



重點大綱

3. 絲路為中國帶來了什麼樣的經濟變動？ (6.6.7)
4. 絲路在佛教傳播上有什麼貢獻？ (6.6.8)

5. 為什麼早期中國的發明大部份與農業有關？ (6.6)

判斷思考

6. **瞭解肇因與影響** 為什麼絲路對古代的中國很重要？ (6.6.7)
7. **判斷推理** 為什麼儒家持續地影響著中國村莊的生活？ (6.6.3)

教學活動

互聯網活動 利用互聯網來研究絲是如何製造的。製作一張圖表以顯示絲的製造過程。請務必詳細標註所有的步驟 (6.6)

互聯網關鍵詞 絲的製造

活動

記錄絲路之旅

目標：透過模仿貿易商人撰寫旅誌的方式來分析絲路商品、地形和交通的性質。

材料與物品

- 關於絲路的書
- 寫作紙張和筆

準備工作

- 1 研究在絲路上發現的商品、地形和交通工具。
- 2 回顧本章第278-279頁的絲路地圖及資訊。

活動內容

- 1 假設您是一位正開始絲路之旅的中國商人。請決定您要買賣的是什麼商品。
- 2 決定您從長安到喀什要走那一條路線。
- 3 決定您要使用何種牲口。
- 4 撰寫三篇關於您在絲路上經歷的日誌。請務必包括您在旅途中經過的地區和遇見的其他商人等資料。

覆檢

- 1 氣候和自然地理環境對您的旅行計劃有什麼幫助？
- 2 當規劃長途絲路之旅時，有什麼事您一定要考慮到？

延伸

製作壁圖 分組製作一份絲路大地圖。將您的地圖貼在牆壁上，並讓其他的同學在圖上加註絲路的商品。

【加州標準】

6.6.7 列舉在漢代和羅馬帝國時橫跨歐亞大陸「絲路」的重要性和它們的位置。



VISUAL SUMMARY

古代中國

科學與技術 (6.6)

- 中國人擅長於青銅工藝的製作。
- 發展出一套文字系統。
- 農業技術的改良增加了糧食的生產。
- 發明紙張。
- 製造絲綢。



地理 (6.6.2, 6.6.7, 6.6.8)

- 早期的農民定居在黃河和長江流域。
- 自然的地理屏障造成與世界其他地區聯繫的困難。
- 商品、思想、佛教和文化沿著絲路傳播。



政府 (6.6, 6.6.5, 6.6.6)

- 商朝建立第一個朝代。
- 統治權來自天命。
- 秦始皇統一中國。
- 開始修築長城。
- 漢朝統治天下四百年。



思想學說 (6.6.3, 6.6.4)

- 法家要求嚴密的控制人民。
- 孔子主張五倫會帶來和諧。
- 道家提倡學習自然法則便會尋得和諧。



名稱辭彙

解釋下列名稱辭彙的相關性

1. 秦朝與法家
2. 漢朝與官僚制度
3. 孝道與儒家
4. 絲路與文化傳播

重點大綱

地理環境對古代中國生活的影響 (252-257頁)

5. 為什麼黃河對中國古代文明如此的重要？ (6.6.1)
6. 中國文字是如何發展出來的？ (6.6)

中國古代的哲學 (258-265頁)

7. 法家和道家對社會的觀點有什麼不同？ (6.6.3)
8. 孔子教導那五種基本的人際關係？ (6.6.4)

秦朝和漢朝 (266-275頁)

9. 秦始皇的那一些政策造成人民極大的怨怒？ (6.6.5)
10. 漢朝在政體上做了什麼改進？ (6.6.6)

古代中國的遺產 (276-281頁)

11. 有那些思想經由絲路傳播到古代的中國？ (6.6.7)
12. 為什麼農業的改良對古代的中國很重要？ (6.6)

判斷思考

重點：思想學說

13. **描繪出結論** 孔子的學說如何維繫古代中國的家庭組織？(6.6.3)

14. **瞭解肇因和影響** 儒家對中國官僚制度的發展有何貢獻？(6.6.4)

15. **建立觀點** 您認為本章所討論的三個思想學說，那一個能夠最有效的統治疆土？請解釋。(6.6.3)

另外的評量

1. **寫作活動** 假設您是一個長城築工。請用日記的方式描述您的工作，並包括您對這工作的看法。(寫作2.1)

2. **多向探討** **科學** 研究造紙的過程。製作海報來解釋這些過程，並說明它是如何的改變了中國人的生活。(6.6)

3. **以一個故事開始** 回顧您所寫的關於孔子學說對社會影響的宣導信。寫一段文章支持不能僅是靠著尊敬，而須要屬法來掌控社會。(寫作2.5)

技術活動

4. 製作多媒體的簡報

利用圖書館或互聯網研究秦始皇陵墓和古埃及統治者的陵墓。製作一個多媒體的簡報。(6.6.5)
包括

- 陵墓的位置
- 相似性和相異性

ClassZone.com

請看地圖 以下地圖顯示中國各地區的氣候與北美洲地區的比較。請回答關於地圖的問題。(6.6)



1. 中國的西部地區與美國的那一州相似？

- 明尼蘇達州
- 愛達荷州
- 肯塔基州
- 奧克拉荷馬州

2. 中國那個地區的氣候與內布拉斯加州相似？

- 中西部
- 中東部
- 東北部
- 極北部



Test Practice
ClassZone.com

Additional Test Practice, pp. S1-S33